



Conteste dos de las cuatro preguntas que tiene a continuación. Cada una de las preguntas se valorara con un máximo de 5 puntos.


1. ¿Cuáles son las características de un margen continental pasivo?
2. ¿Cómo se puede transformar un sedimento en una roca sedimentaria? Explique que procesos se producen.
3. En el siguiente esquema se muestran algunos modelos de red de drenaje. Identifíquelos y describa brevemente sus principales características.




A



B



C



D

4. Explique las características de las rocas graníticas y del proceso geológico responsable de la formación de las mismas.